



ESCOLA




sem

MUROS



#fiqueemcasa  
EMEEEIF MADRE CECÍLIA

MC  
ESCOLA  
MADRE CECÍLIA



**“MEDINDO COMPRIMENTO.”**

**SEMANA 17**

**ENSINO FUNDAMENTAL I E EJA I e II**



# HABILIDADES

**(EF03MA17)** RECONHECER QUE O RESULTADO DE UMA MEDIDA DEPENDE DA UNIDADE DE MEDIDA UTILIZADA.

**(EF04MA20B)** MEDIR E ESTIMAR COMPRIMENTOS (INCLUINDO PERÍMETROS), UTILIZANDO UNIDADES DE MEDIDA PADRONIZADAS MAIS USUAIS, VALORIZANDO E RESPEITANDO A CULTURA LOCAL.

**(EF06MA22)** RECONHECER QUE O RESULTADO DE UMA MEDIDA DEPENDE DA UNIDADE DE MEDIDA UTILIZADA.





# ESTRATÉGIA 1



1- ENUMERE OS OBJETOS ABAIXO DE ACORDO COM O INSTRUMENTO QUE SE USA PARA MEDIR.

## 1 - RÉGUA



## 2 - FITA MÉTRICA



## 3 - TRENA



( ) CALÇA

( ) SAPATO

( ) SALA DE AULA

( ) LÁPIS

( ) CELULAR

( ) CALÇA

( ) CADERNO

( ) PRÉDIO

( ) PAREDE

( ) CORDA


( ) PORTA

( ) CARRO



# ESTRATÉGIA 1

2- ESCREVA AS MEDIDAS DOS OBJETOS USANDO A RÉGUA.



LÁPIS \_\_\_\_\_

BORRACHA \_\_\_\_\_

CADERNO \_\_\_\_\_

CELULAR \_\_\_\_\_



## ESTRATÉGIA 2



A FAMÍLIA DE JÉSSICA MEDIU A MESA DA CASA, EM PALMOS “MÃOS” E ENCONTRARAM OS SEGUINTE RESULTADOS:

- ❖ A MÃE MEDIU 6 PALMOS.
- ❖ O PAI MEDIU 8 PALMOS.
- ❖ O IRMÃO MEDIU 7 PALMOS.

1- COMO VOCÊ PODE DIZER A MEDIDA EXATA DA MESA? \_\_\_\_\_

2- PESQUISE A MEDIDA DA MESA DA SUA CASA E ANOTE.





## ESTRATÉGIA 2



3- OBSERVE A IMAGEM ABAIXO E RESPONDA:



**IGREJA**

300 METROS



**CASA DA RITA**

200 METROS



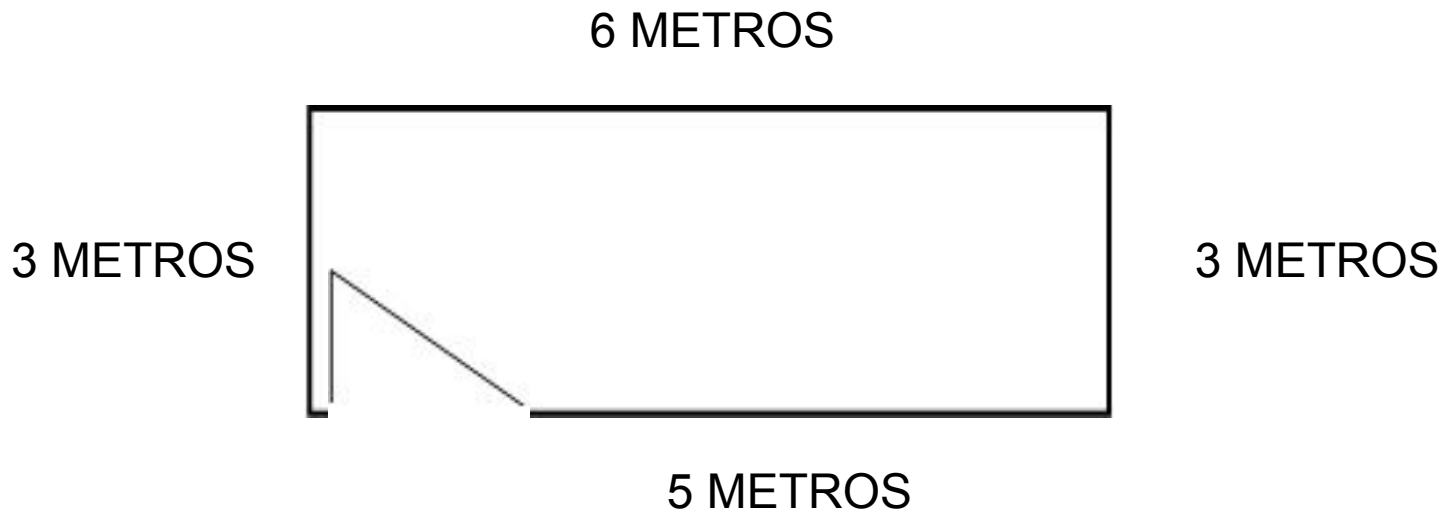
**ESCOLA**

- QUANTOS METROS TÊM DA IGREJA ATÉ A CASA DE RITA? \_\_\_\_\_
- QUANTOS METROS TÊM DA CASA DE RITA ATÉ A ESCOLA? \_\_\_\_\_
- QUANTOS METROS TÊM DA IGREJA ATÉ A ESCOLA? \_\_\_\_\_
- RITA SAIU DE CASA E FOI ATÉ A ESCOLA. NA VOLTA PASSOU PELA IGREJA E DEPOIS RETORNOU A SUA CASA. QUANTOS METROS RITA ANDOU? \_\_\_\_



## ESTRATÉGIA 3

1 – CONSIDERANDO AS MEDIDAS DA CASA DE JOÃO, QUANTOS METROS DE RODAPÉ PRECISARÁ COMPRAR PARA SEU PEDREIRO INSTALAR?







## ESTRATÉGIA 3

A PISCINA DA ESCOLA TEM 24 METROS DE COMPRIMENTOS.

RESPONDA:

1. LUCAS SÓ NADA ATÉ A METADE DA PISCINA CINCO VEZES NA SEMANA.
2. MARIO NADA O COMPRIMENTO DA PISCINA 2 VEZES NA SEMANA.
3. DIEGO NADA 10 METROS 4 VEZES NA SEMANA.
4. PEDRO NADA 24 METROS 3 VEZES NA SEMANA.
5. QUEM NADA MAIS?






## ESTRATÉGIA 4

A) OBSERVE AS RÉGUAS. EM UMA ESTÃO INDICADOS OS CENTÍMETROS, E NA OUTRA OS MILÍMETROS.

QUANTOS MILÍMETROS CORRESPONDEM A 10 CENTÍMETROS?

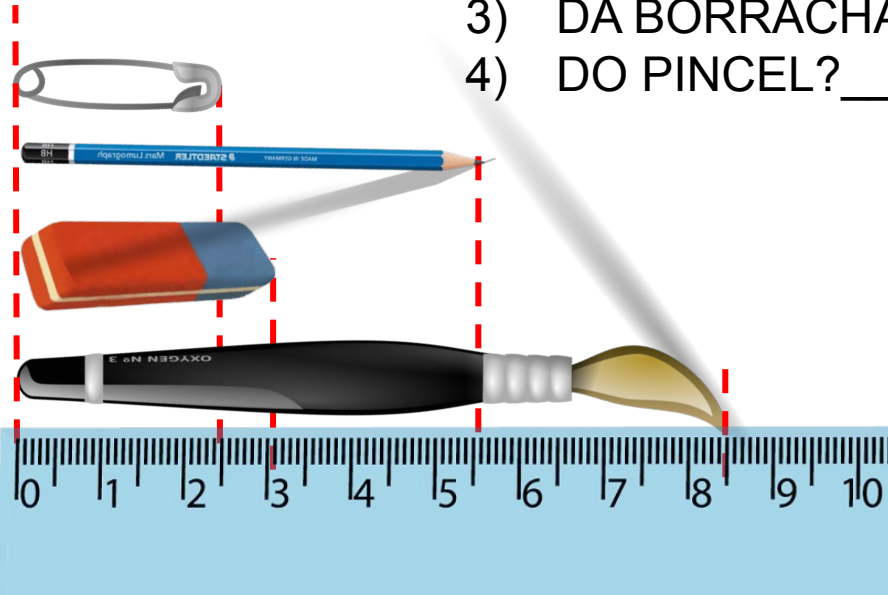




## ESTRATÉGIA 4

A) AS MEDIDAS DOS DESENHOS ESTÃO REDUZIDAS. QUAL É O COMPRIMENTO INDICADO PELA RÉGUA EM CENTÍMETROS E EM MILÍMETROS:

- 1) DO ALFINETE? \_\_\_\_\_
- 2) DO LÁPIS? \_\_\_\_\_
- 3) DA BORRACHA? \_\_\_\_\_
- 4) DO PINCEL? \_\_\_\_\_



ALÉM DA RÉGUA, EXISTEM OUTROS INSTRUMENTOS UTILIZADOS PARA MEDIR COMPRIMENTOS. PESQUISE QUAIS SÃO ESSES INSTRUMENTOS.



# OBSERVAÇÕES AOS PAIS/RESPONSÁVEIS

- PARTICIPE DO GRUPO DO WHATSAPP E RECEBA ORIENTAÇÕES QUANTO ÀS ESTRATÉGIAS.
- VALORIZE E CRIE UMA ROTINA DE ACORDO COM OS HORÁRIOS DE ATENDIMENTOS NOS GRUPOS DE WHATSAPP.



# REFERÊNCIAS BIBLIOGRÁFICAS

<https://www.canalkids.com.br/cultura/matematica/metro.htm>

<https://waleu.com.br>

<https://www.pinterest.pt/pin/704672672924068468/>

<https://www.istockphoto.com/br/vetor/régua-30-cm-medição-ferramenta-graduação-da-régua-grelha-30-e-1-cm-tamanho-indicador-gm958873400-261831760>

<https://emojiterra.com/es/imperdible/>

<http://22tonslatinos.blogspot.com/2013/07/como-se-diz-borracha-em-espanhol.html>

<http://pyruos.blogspot.com/2016/11/staedtler-pencil-terbaik-untuk-anak.html>

<http://pyruos.blogspot.com/2016/11/staedtler-pencil-terbaik-untuk-anak.html>

PEREIRA RIGHI, Fernanda. et al. **Buriti Mais Matemática 2º ano**, 1ª edição. São Paulo: editora Moderna, 2017.

Planejamento do I Semestre de Ensino. Componente Curricular Polivalente. 1º ao 5º ano e EJA do Ensino Fundamental I. Prefeitura Municipal de Taubaté. Secretaria de Educação. Unidade Escolar: Madre Cecília, 2020.

Site: [portaldoprofessor.mec.gov.br](http://portaldoprofessor.mec.gov.br)

<https://pt.dreamstime.com/imagem-de-stock-casa-dos-desenhos-animados-image16120661>

<https://br.freepik.com/fotos>

[http://www.pim.saude.rs.gov.br/site/guia-da-familia/5-6-anos/guia\\_familia\\_figura38\\_pag44/](http://www.pim.saude.rs.gov.br/site/guia-da-familia/5-6-anos/guia_familia_figura38_pag44/)

<https://www.clipartmax.com/>

<http://www.santamarina.edu.br/>

<http://discoveryef.blogspot.com/2017/02/metrologia-industrial-basico-como.html>

[www.pinterest.com.br](http://www.pinterest.com.br)

<https://www.santaodila.com.br/produtos/ferramentas/trenas>



# ELABORADO POR



## SUPERVISORES DE ENSINO EQUIPE GESTORA E PEDAGÓGICA EMEEEIF MADRE CECÍLIA PROFESSORES ESPECIALISTAS NAPE

E-MAIL EMEEEIF MADRE CECÍLIA:  
[cemtemadrececilia@educacaotaubate.sp.gov.br](mailto:cemtemadrececilia@educacaotaubate.sp.gov.br)

E-MAIL NAPE:  
[nape@educacaotaubate.sp.gov.br](mailto:nape@educacaotaubate.sp.gov.br)

**#fiqueemcasa**

