

**ESCOLA SEM
MUROS:
EM CASA
TAMBÉM SE
APRENDE**

7º Ano



GEOGRAFIA

A globe of the Earth is the central focus, showing the Americas. It sits on a black stand. In the foreground, there is a stack of several books, a metal pencil holder filled with colorful pencils, and a white coffee cup on a saucer. The background is a dark, textured surface, possibly a chalkboard.

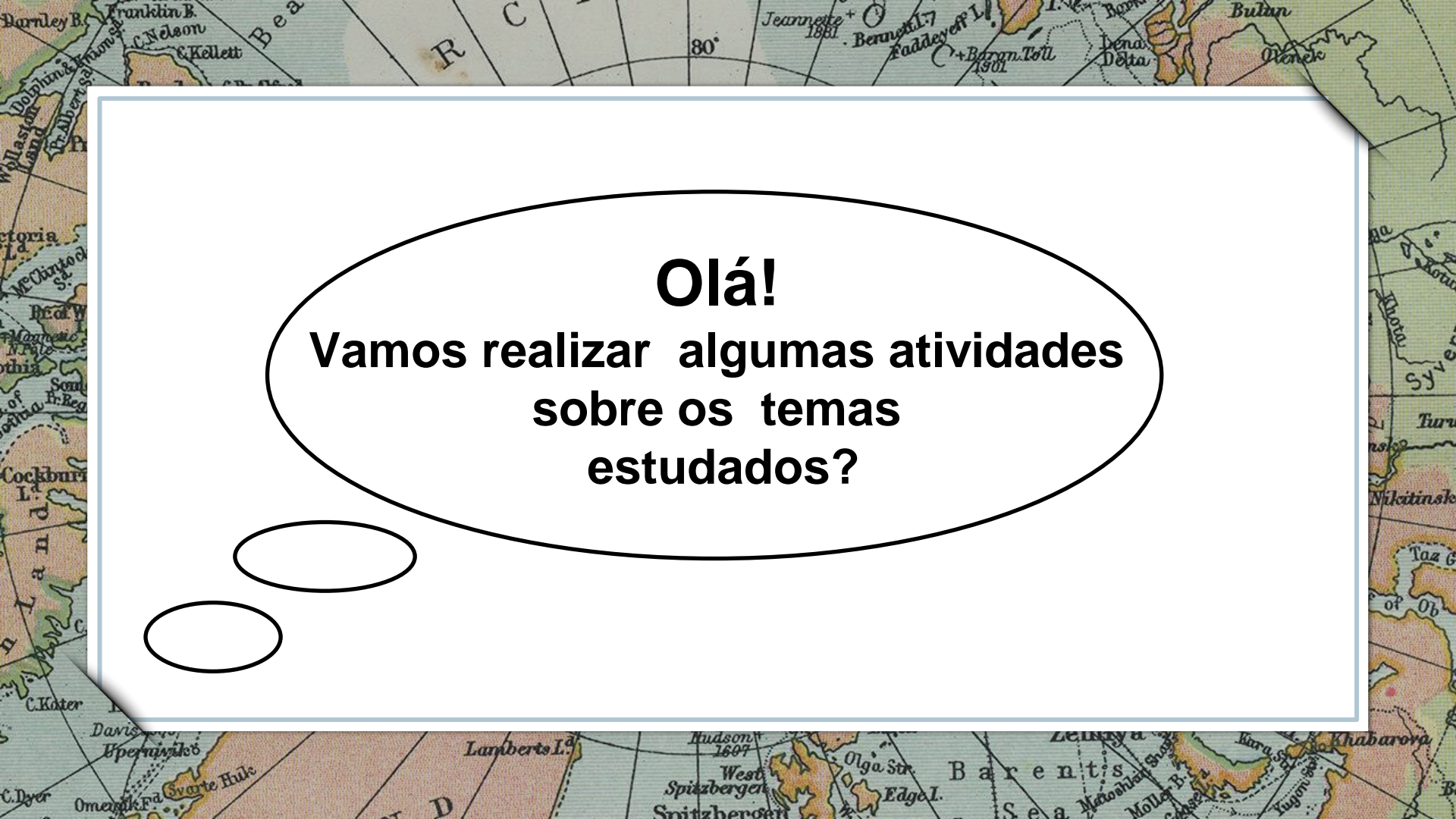
Nessa aula você irá aprender sobre:

REGIONALIZAÇÃO DO BRASIL

Habilidades:

(HCEF07GE05T) Analisar as divisões regionais do IBGE e outras propostas de regionalização, descrever e entender as principais características culturais, econômicas, naturais, políticas e sociais da Região Nordeste. (EF07GE10) Elaborar e interpretar gráficos de barras, gráficos de setores e histogramas, com base em dados socioeconômicos das regiões brasileiras.

VAMOS COMEÇAR?



Olá!
Vamos realizar algumas atividades
sobre os temas
estudados?



ATIVIDADES

1. Conforme a divisão regional do IBGE, o Brasil está dividido em cinco regiões. Cada região possui características que as distingue das demais. Analise as frases a seguir sobre aspectos que caracterizam essas regiões:

I. O Nordeste é a principal área de refluxo (saída) de pessoas nas migrações internas do país.

II. A região Centro-Oeste é a mais industrializada, povoada e urbanizada do país.

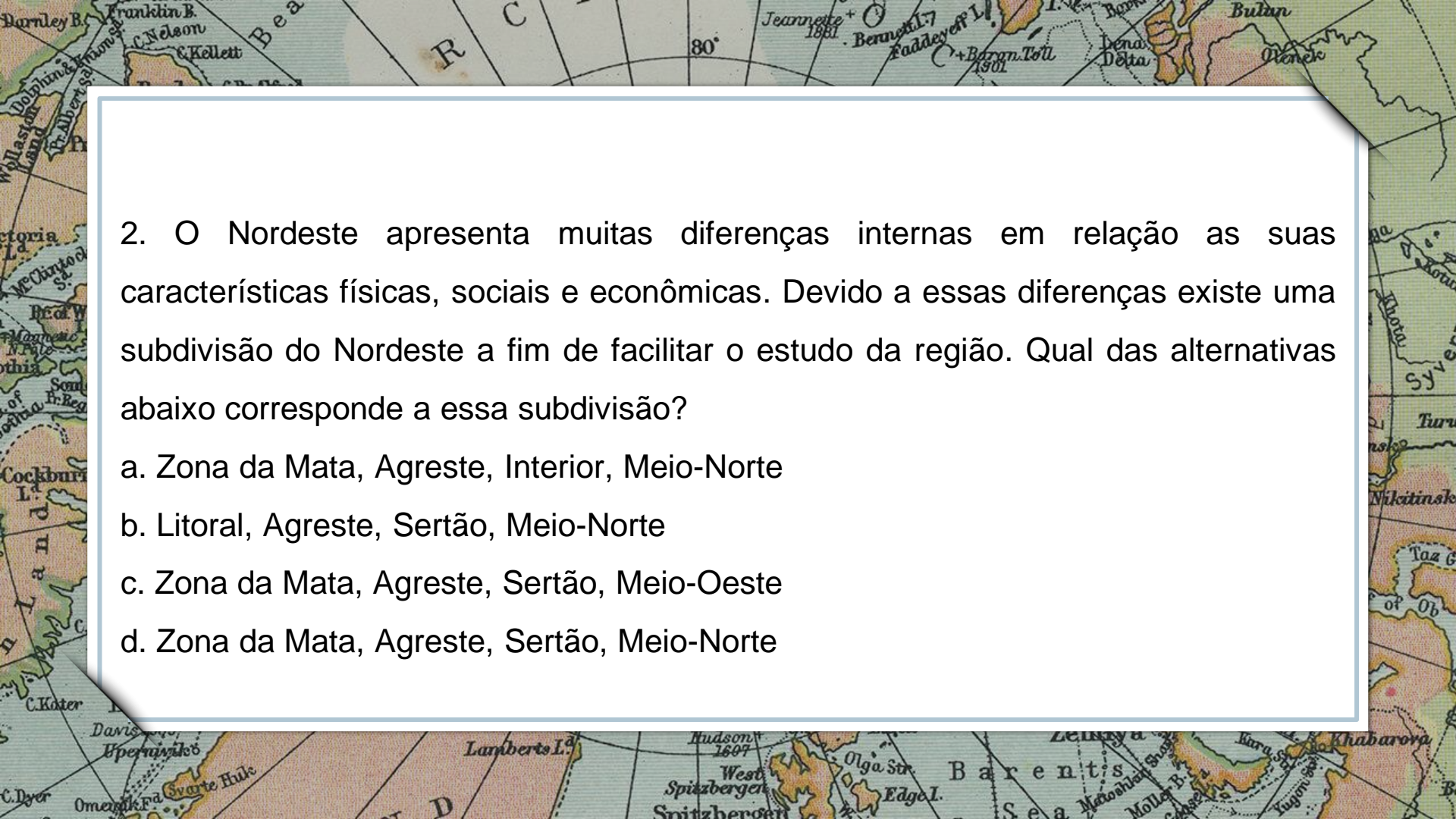
III. O Norte é a região menos povoada do Brasil e não é afetada por grandes impactos ambientais.

IV. O Nordeste apresenta muitas marcas da colonização e, por praticamente três séculos, foi a região mais rica do Brasil.

Está correto o contido em: _____.



Imagem:
<https://es.123rf.com>



2. O Nordeste apresenta muitas diferenças internas em relação as suas características físicas, sociais e econômicas. Devido a essas diferenças existe uma subdivisão do Nordeste a fim de facilitar o estudo da região. Qual das alternativas abaixo corresponde a essa subdivisão?

- a. Zona da Mata, Agreste, Interior, Meio-Norte
- b. Litoral, Agreste, Sertão, Meio-Norte
- c. Zona da Mata, Agreste, Sertão, Meio-Oeste
- d. Zona da Mata, Agreste, Sertão, Meio-Norte

3. Esta região apresenta vegetação bem diversificada, com predomínio da Caatinga. Ao longo do século XX diminuiu sua participação no conjunto da população brasileira por causa do expressivo número de migrantes que se espalharam pelas outras regiões. No período colonial era considerada a região mais rica e a economia tinha como base a monocultura da cana-de-açúcar.

O texto acima se refere a qual região brasileira? _____


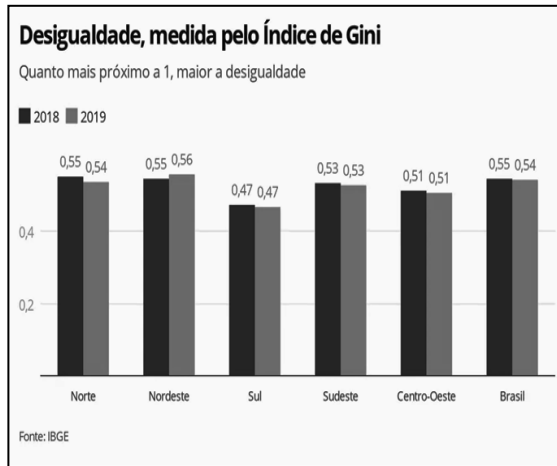


Imagem: <https://br.freepik.com/>

4. O indicador usado pelo IBGE para monitorar a desigualdade de renda é o Índice de Gini, que tem escala de 0 a 1 - quanto mais próximo de 1, maior a desigualdade. Sabendo disso analise o gráfico abaixo e responda às questões.




a. Qual região apresentou menor desigualdade de renda em 2018 e 2019?

b. Qual região apresentou o maior índice de Gini em 2019?

c. Indique quais regiões pioraram e quais melhoraram no período entre 2018 e 2019.

Fonte imagem: g1.globo.com acesso em 06/05/2020

Parabéns, você realizou as atividades de Geografia!



Até a próxima aula! 😊

**E.P.P. – EQUIPE DE PRÁTICAS
PEDAGÓGICAS
E
PROFESSORES DA REDE MUNICIPAL DE
ENSINO**